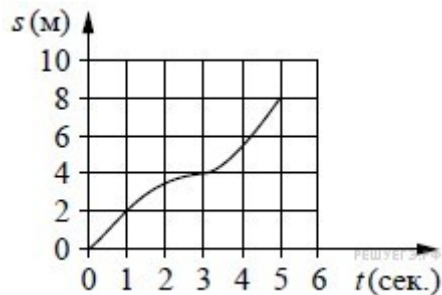


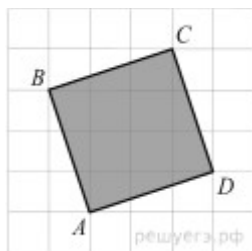
1 вариант

1. Ананасы стоят 85 руб. за штуку. Какое максимальное число ананасов можно купить на 500 руб., если их цена снизится на 20%?

2. Материальная точка движется от начального до конечного положения. На рисунке изображён график её движения. На оси абсцисс откладывается время в секундах, на оси ординат — расстояние от начального положения точки (в метрах). Найдите среднюю скорость движения точки. Ответ дайте в метрах в секунду.



3. Найдите площадь квадрата, изображенного на клетчатой бумаге с размером клетки $1 \text{ см} \times 1 \text{ см}$ (см. рис.). Ответ дайте в квадратных сантиметрах.



4. В сборнике билетов по биологии всего 55 билетов, в 11 из них встречается вопрос по теме "Ботаника". Найдите вероятность того, что в случайно выбранном на экзамене билете школьнику достанется вопрос по теме "Ботаника".

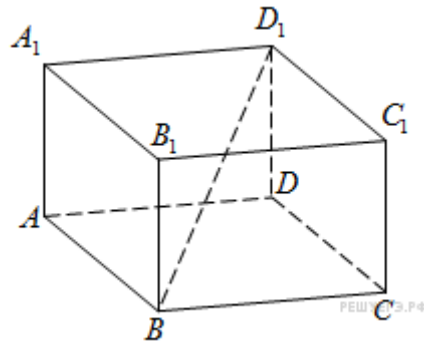
$$\left(\frac{1}{2}\right)^{10-3x} = 32.$$

5. Найдите корень уравнения

6. Найдите корень уравнения $\log_2(4-x) = 7$.

7. Решите уравнение $\text{tg} \frac{\pi x}{4} = -1$. В ответе напишите наибольший отрицательный корень.

8. В прямоугольном параллелепипеде $ABCD A_1 B_1 C_1 D_1$ известно, что $BD_1 = 5$; $CC_1 = 3$; $B_1 C_1 = \sqrt{7}$. Найдите длину ребра AB .



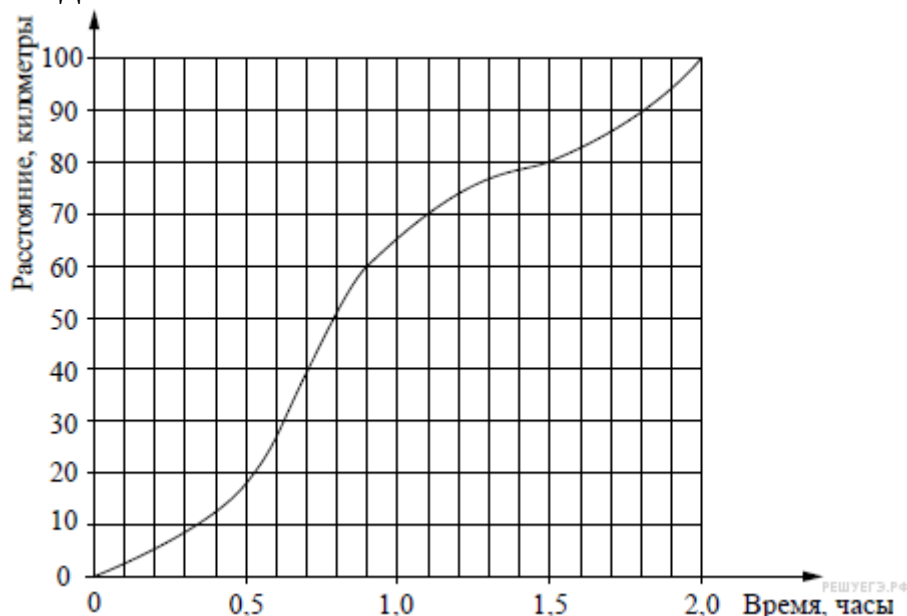
9. Найдите значение выражения $\frac{5 \operatorname{tg} 163^\circ}{\operatorname{tg} 17^\circ}$.

10. От пристани A к пристани B , расстояние между которыми равно 420 км, отправился с постоянной скоростью первый теплоход, а через 1 час после этого следом за ним, со скоростью на 1 км/ч большей, отправился второй. Найдите скорость первого теплохода, если в пункт B оба теплохода прибыли одновременно. Ответ дайте в км/ч.

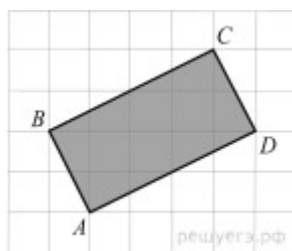
2 вариант

1. Стоимость проезда в маршрутном такси составляет 20 руб. Какое наибольшее число поездок можно будет совершить в этом маршрутном такси на 150 руб., если цена проезда снизится на 10%?

2. На рисунке показан график движения автомобиля по маршруту. На оси абсцисс откладывается время (в часах), на оси ординат — пройденный путь (в километрах). Найдите среднюю скорость движения автомобиля на данном маршруте. Ответ дайте в км/ч.



3. Найдите площадь прямоугольника, изображенного на клетчатой бумаге с размером клетки 1 см × 1 см (см. рис.). Ответ дайте в квадратных сантиметрах.



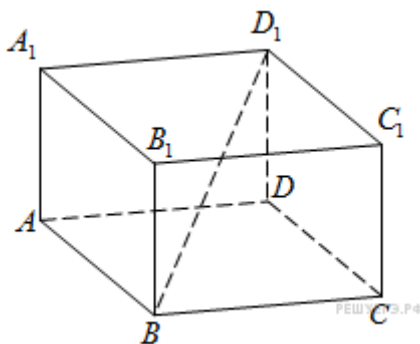
4. В сборнике билетов по математике всего 25 билетов, в 10 из них встречается вопрос по теме "Неравенства". Найдите вероятность того, что в случайно выбранном на экзамене билете школьнику **не достанется** вопроса по теме "Неравенства".

5. Найдите корень уравнения $5^{x-7} = \frac{1}{125}$.

6. Найдите корень уравнения $\log_5(4+x) = 2$.

7. Решите уравнение $\sin \frac{\pi x}{3} = 0,5$. В ответе напишите наименьший положительный корень.

8. В прямоугольном параллелепипеде $ABCD A_1 B_1 C_1 D_1$ известно, что $CA_1 = \sqrt{38}$; $DD_1 = 5$; $BC = 3$. Найдите длину ребра BA .



9. Найдите значение выражения $\frac{14 \sin 409^\circ}{\sin 49^\circ}$.

10. От пристани A к пристани B , расстояние между которыми равно 110 км, отправился с постоянной скоростью первый теплоход, а через 1 час после этого следом за ним со скоростью на 1 км/ч большей отправился второй. Найдите скорость второго теплохода, если в пункт B он прибыл одновременно с первым. Ответ дайте в км/ч.

